

Cuadernillo

Explorando Números Mitad, Doble
y Triple



@TuPortalEducativo



<https://portaleducativo10.com>



t.me/TuPortalEducativo



Nombre: _____

Fecha: / /

Aventuras Matemáticas Multiplica y Divide con Alegría (x3, x4, x8)


Si un tren lleva 4 vagones y en cada vagón hay 8 asientos, ¿cuántos asientos hay en total en el tren?



Un total de 24 manzanas se reparten equitativamente en cestas de 3 manzanas cada una. ¿Cuántas cestas se pueden llenar?



En una granja, hay 3 corrales con 4 vacas en cada uno. ¿Cuántas vacas hay en total?



Hay 32 alumnos en clase y se quieren formar grupos de 4. ¿Cuántos grupos se formarán?



Una pizzería prepara 8 pizzas y cada una tiene 4 porciones. ¿Cuántas porciones de pizza hay en total?



Un pastelero ha horneado 40 galletas y las quiere empacar en paquetes de 8. ¿Cuántos paquetes puede hacer?





Nombre: _____

Fecha: / /

Aventuras Matemáticas Multiplica y Divide con Alegría (x3, x4, x8)

En un torneo de fútbol hay 3 equipos y cada equipo tiene 8 jugadores. ¿Cuántos jugadores hay en total?



Se tienen 24 globos para repartir en 4 fiestas. ¿Cuántos globos se utilizarán en cada fiesta?




Hay 4 cajas de juguetes y cada caja contiene 3 juguetes de peluche. ¿Cuántos peluches hay en total?



Un total de 72 crayones se divide en cajas de 8. ¿Cuántas cajas se pueden llenar?



Un libro tiene 8 capítulos y cada capítulo tiene 4 páginas. ¿Cuántas páginas tiene el libro?



Se recolectaron 36 huevos de gallina y se quieren poner en cartones de 4 huevos. ¿Cuántos cartones se necesitan?





Nombre: _____

Fecha: / /

Aventuras Matemáticas Multiplica y Divide con Alegría (x3, x4, x8)

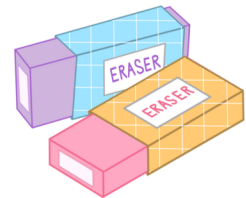
En un álbum de fotos hay 3 páginas y cada página tiene espacio para 8 fotos.
¿Cuántas fotos se pueden poner en el álbum?



En una carrera, 32 corredores se dividen en 4 carriles. ¿Cuántos corredores hay en cada carril?



Un paquete de gomas de borrar tiene 4 gomas y una caja tiene 3 paquetes.
¿Cuántas gomas hay en una caja?



Se tienen 56 sellos y se quieren organizar en páginas de un álbum con 8 sellos por página. ¿Cuántas páginas se llenarán?



Si 4 amigos coleccionan 8 canicas cada uno, ¿cuántas canicas tienen entre todos?



Un total de 48 botellas de agua se deben repartir en cajas de 3 botellas.
¿Cuántas cajas se llenarán?





Nombre: _____

Fecha: / /

Aventuras Matemáticas Multiplica y Divide con Alegría (x3, x4, x8)

Hay 64 dulces para dividir en bolsitas de 8. ¿Cuántas bolsitas se pueden hacer?



Un jardín tiene 3 filas de flores con 4 flores en cada fila. ¿Cuántas flores hay en total?



Una clase de 24 estudiantes se divide en grupos de 3 para un proyecto. ¿Cuántos grupos hay?



En una competencia de natación, cada nadador debe nadar 8 vueltas y hay 3 nadadores. ¿Cuántas vueltas nadarán en total?



Se hornean 40 panes y se quieren repartir en paquetes de 4. ¿Cuántos paquetes se formarán?



Si un paquete de stickers tiene 4 hojas y cada hoja tiene 8 stickers, ¿cuántos stickers hay en total en el paquete?





Nombre: _____

Fecha: / /

Aventuras Matemáticas Multiplica y Divide con Alegría (x3, x4, x8)

Hay 72 fichas de juego que se deben repartir equitativamente entre 8 jugadores. ¿Cuántas fichas recibe cada jugador?



Una caja de crayones tiene 8 colores diferentes y cada niño recibe 3 crayones del mismo color. ¿Cuántos crayones se reparten en total?



Se tienen 32 chocolates para repartir en paquetes de 4. ¿Cuántos paquetes se pueden formar?



Hay 4 estanterías con 8 libros en cada una. ¿Cuántos libros hay en total?



En una biblioteca, 24 libros se deben colocar en 3 estantes. ¿Cuántos libros irán en cada estante?



Un faro emite una luz cada 4 segundos. ¿Cuántas veces emitirá luz en 3 minutos?





Nombre: _____


Fecha: / /

Aventuras Matemáticas Multiplica y Divide con Alegría (x3, x4, x8)

Un mago tiene 3 cajas de trucos, y en cada caja hay 8 cartas mágicas. ¿Cuántas cartas mágicas tiene en total?




Un total de 36 stickers se van a repartir en álbumes de 4 stickers por página. ¿Cuántas páginas se pueden llenar?



En un zoo, hay 4 jaulas de monos, con 3 monos en cada jaula. ¿Cuántos monos hay en las jaulas?



Hay 32 naranjas y se quieren hacer paquetes con 8 naranjas en cada uno. ¿Cuántos paquetes se pueden formar?



Un panadero hornea 8 bandejas de pan al día, y cada bandeja lleva 4 panes. ¿Cuántos panes hornea en un día?



Si una caja de 24 bombones se divide equitativamente entre 3 amigos, ¿cuántos bombones recibe cada uno?

